



6. Отгадайте загадку.

Развалились в беспорядке на своей перине-грядке  
Сто зелёных медвежат, с сосками во рту лежат,  
Беспрерывно сок сосут и растут.

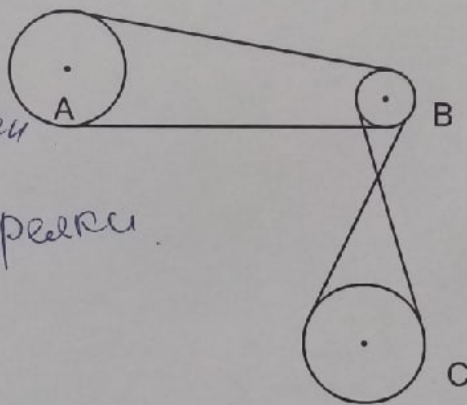
огурец

Назовите ещё три блюда, для приготовления которых используется этот продукт.

рассольник, ешвые, окрошка.

7. На рисунке изображена система колёс, связанных ремнями передачами. В какую сторону будут вращаться колёса А и В, если колесо С вращается по часовой стрелке.

*А - против часовой стрелки  
В - против часовой стрелки*



8. Установите соответствие между рисунком шва и его названием.

1	Стебельчатый шов	А	
2	Тамбурный шов	Б	
3	Петельный шов	В	
4	Шов «назад иголку»	Г	
5	Шов «козлик»	Д	

*4 - Б  
1 - Г  
2 - Д  
3 - В  
5 - А*


9.а) Составьте меню завтрака, включающее блины.

Чай, блины с медом, каша овсяная.

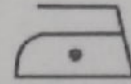

9.б) Опишите технологию приготовления блинов.

В кастрюле смешать 2 яйца, кефир, соль, сахар (по вкусу) сода (0,5 ч.л.), мука. Перемешать так, чтобы не было комочков. Жарить с 2 сторон на сковороде.

9.в) Предложите сервировку стола к этому завтраку.



1. а) Из какой ткани по волокнистому составу изготовлена блуза, если на ярлычке по уходу за изделием изображены такие значки?



Атлас

б) Назовите три свойства этой ткани.

Прочность, не садится после стирки, не электризуется

в) К какой группе волокон относится волокно, из которого производится такая ткань?

Синтетические

г) Приведите пример другого изделия из этой ткани.


Платок

2. Каждый день в походе чай пьют 3 раза в день. Поход длится 4 дня. Чай продаётся в пачках по 100 пакетиков. Сколько пачек чая нужно купить на весь поход для группы из 32 человек? 4

3. Какие обои визуально уменьшают размер помещения?

Тёмные

4. У Марины есть бусины пяти видов: квадратные белые и чёрные, круглые белые и чёрные, чёрные треугольные. Девочка решила сделать браслет и стала нанизывать их в таком порядке:



Какая бусина будет на 46-м месте, если Марина сохранит начатый порядок?

Белая квадратная

5. Как называется русский народный промысел, родившийся в середине XIX века в Московской губернии, который представляет собой производство набивных шерстяных платков традиционно чёрного или красного цвета, с объёмным цветочным узором?

Платок

Всероссийская олимпиада по технологии Школьный этап

Номинация «Культура дома и декоративно-прикладное творчество»

5-6 класс

1. Что такое стежок?

- A) расстояние от срезов деталей до строчки
- B) переплетение нитей в ткани между двумя проколами иглы
- C) точечное соединение деталей

2. Без чего нельзя построить чертеж швейного изделия?

- A) ножниц B) мела C) булавки D) линейки закройщика

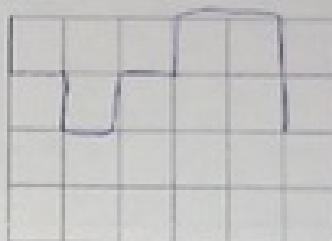
3. Как вы понимаете значение слова *кулинария*?

- A) искусство приготовления пищи B) наука о рациональном питании
- C) наука о сервировке стола D) продукты питания

4. Без какого ингредиента не обходится винегрет?

*Свекла*


5. На уроке технологии ученица использовала следующий алгоритм из стрелок для орнамента вышивки:  $\downarrow \rightarrow \downarrow \rightarrow \uparrow \rightarrow \uparrow \rightarrow \downarrow$ . Покажите схему полученного рисунка.



6. Определите правильную технологию приготовления салата из вареных овощей:

- A) овощи-отварить-промыть-очистить-заправить-нарезать-украсить-перемешать.
- B) овощи-помыть-посолить-отварить-нарезать-перемешать-заправить-украсить
- C) овощи-промыть-отварить-очистить-нарезать-заправить-перемешать-украсить
- D) овощи-очистить-промыть-отварить-нарезать-перемешать-заправить-украсить

7. Какая из фигур обладает наибольшей устойчивостью?



а

б

в

8. Чем является аккумулятор для мобильного телефона?

*Батарейка которая запасывает ей энергию*

9. Какие волокна имеют гладкую поверхность?

- A) лавсан B) льна C) хлопка D) шерсти

10. Сколько целых заготовок длиной 200 мм можно сделать из капроновой ленты длиной 3,5 метра? Запишите решение и ответ.

*350 / 200 = 17 целых кусков.*  

$$\begin{array}{r} 350 \text{ мм} \\ - 200 \text{ мм} \\ \hline 150 \end{array}$$
  
 $35 \text{ м} = 350 \text{ мм}$   
 $100 \text{ мм} = 10 \text{ см}$

11. а) Составьте меню обеда, включающее салат из свежих огурцов со сметаной.

Ответ: Салат, суп, 2 блюда, десерт

б) Опишите технологию приготовления салата.

Ответ: Помыть огурцы, нарезать, посолить, добавить сметану, нарезать лук, добавить сметану, украсить

в) Предложите сервировку стола к этому обеду.

